


ESTIMER LA MASSE D'OBJETS


Écris la masse qui correspond à ce qui est représenté sur chaque image : 6 g, 300 kg, 300 g, 6 kg.



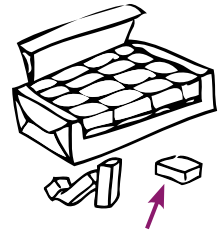
Un chien



Un livre



Une vache



Un sucre

COMPARER DES MASSES

Range les masses de la plus légère à la plus lourde : 5 kg, 145 g, 154 kg et 5 g.

RÉSoudre un PROBLÈME DE LA VIE COURANTE



Maman prépare une salade de fruits. Elle met dans un saladier : 250 g de pommes, 200 g de poires, 100 g de bananes, 100 g de kiwis, 150 g de raisin et 50 g de sucre.

Sa salade de fruits pèsera-t-elle plus d'un kilogramme ?

Recherche / calcul



.....